

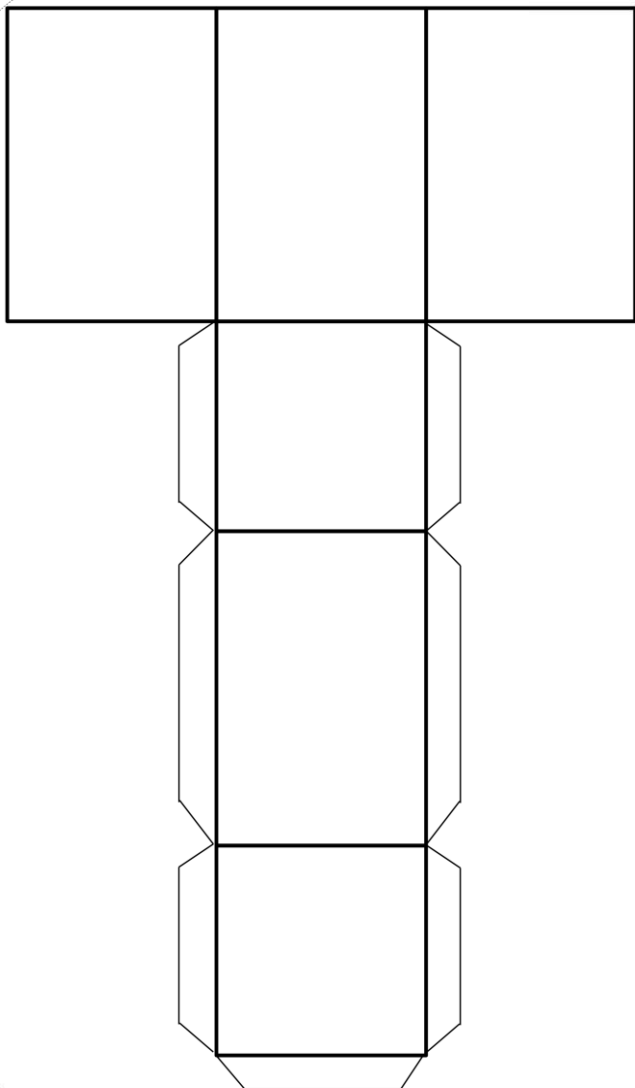


Géométrie

Fiche 8

Les solides : le pavé

1 Je découpe le patron du pavé et j'essaie de le construire en pliant sur les traits

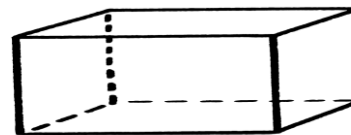



Géométrie

Fiche 9

Les solides : le pavé

1 Je compte le nombre de sommets, de faces. Je complète la définition.



Nombres de faces : **6**

Nombre de sommets : **8**

Nombre d'arêtes : **12**

Un pavé a **6** faces, **8** sommets et **12** arêtes.

Toutes ses faces sont des **rectangles** ou des **carrés**.

2 J'entoure tous les pavés.

