





Choisir la bonne unité



O Choisir l'unité appropriée

1. Colorie chaque dessin avec sa mesure :

				
5 mm	40 m	15 cm	10 m	5 cm

2. Complète avec l'unité qui convient, mm, cm, m :

- a) La hauteur du bureau : 60 **.cm...**
- b) La largeur de la classe : 8 **.m....**
- c) La hauteur de la Tour Eiffel : 320 **.m.....**
- d) Un bonbon : 8 **...mm** si tu as mis "cm" tu es un grand gourmand!!
- e) La hauteur d'une grue 20 **.m.....**

3. Trouve et écris le nom des objets suivants :

2 objets qui se mesurent en mm
2 objets qui se mesurent en cm
2 objets qui se mesurent en m